

Exemples de tests

Quel est l'intrus

Cousin, grand-père, sœur, neveu, filleul, oncle	Filleul : n'est pas un lien de parenté
Chanter, crier, protester, hurler, fredonner, chuchoter	Protester : s'applique à ce que l'on dite plutôt qu'à la manière d'émettre des sons
Néfaste, inverse, contraire, adverse, antithèse, opposé	Néfaste : est nuisible, plutôt que le contraire de quelque chose d'autre
BCDF-BCDF-BCDF-BFCD	BFCD
15789-15789-15786-15789	15786
KALAHNIKOV- KALACHNIKOV- KALACHNIKOV	KALAHNIKOV

Quel est le sens le plus proche de

<p style="text-align: center;"><u>timidité?</u></p> <p>Gêne Angoisse Frisson Alarme</p>	Réponse : Gêne
<p style="text-align: center;"><u>cellule?</u></p> <p>Espace fermé Flèche Droite Ligne</p>	Réponse : Espace fermé
<p style="text-align: center;"><u>chiner?</u></p> <p>Chercher Trouver Acheter Vendre</p>	Réponse : Cherché

A chaque mot correspond un code de quatre chiffres choisis, parmi les cinq codes chiffrés, celui qui correspond au mot.

Lune 9172 - Livre 8595 - Ville 4242 - Chat 2468 - Salle 6419 - Mer 4913 - Vie 2560 - Jouet 2540 - Caisse 3666 - Eau 9479 - Pain 1424 - Vert 8465

	A	B	C	D	E
1 - Lune	9172	8595	4242	4913	4965



Réponse :

Lune : A

Livre : C

	A	B	C	D	E
2 - Livre	8465	1424	8595	6419	9479

Parmi les 4 carrés, lequel correspond exactement au carré de référence ?





1

2

3

4

Réponse : 2



1

2

3

4

Réponse : 1

tests arithmétiques

Gil a acheté cinq bonbons à la récréation de 10h00, six à midi et neuf à 15h30.

Combien de bonbons a-t-il acheté au total ?

- A) 15
- B) 20
- C) 25
- D) 35
- E) 30

Réponse : B

Un navire arrive à proximité d'un port à 15 h 25 minutes. Il met 45 minutes pour arriver à quai. Son amarrage dure 20 minutes.

Les passagers pourront sortir du bateau à :

- A) 15 h 55 mn
- B) 16 h 00 mn
- C) 16 h 10 mn
- D) 16 h 30 mn
- E) 17 h 30 mn

Réponse : D

J'achète un téléphone à 200 €, j'ai 5 % de remise.

Je paye donc :

- A) 180 €
- B) 190 €
- C) 160 €
- D) 150 €
- E) 140 €

Réponse : B

L'avion consomme 500 litres de kérosène pour relier les points alpha et bêta, distants de 1000 km, en conditions atmosphériques normales. Il décolle du point alpha avec un plein de 700 litres et un vent favorable qui lui permet d'économiser 15 litres de carburant tous les 200 km.

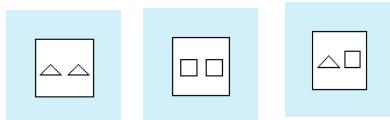
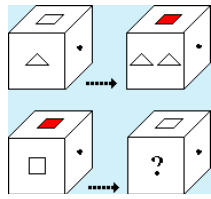
Quelle quantité de carburant restera-t-il dans le réservoir lorsqu'il atteindra le point bêta ?

- A) 275 litres
- B) 100 litres
- C) 75 litres
- D) 200 litres
- E) 150 litres

Réponse : A

Test raisonnement

Quel est le dessin qui prolonge la série ?



1

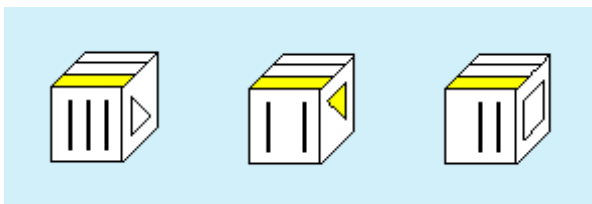
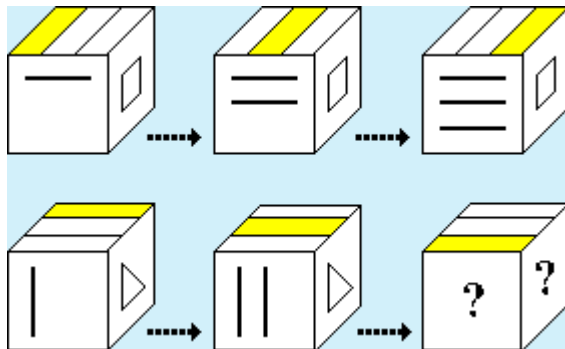
2

3

Vous constatez qu'on passe d'un à deux triangles. De même, pour les deux cubes du bas, vous pouvez déduire qu'on passe d'un à deux carrés.

La bonne réponse est donc la réponse 2.

Quel est le dessin qui prolonge la série ?



1

2

3

Face avant : en suivant les flèches en pointillés, vous observez qu'on passe d'une à deux puis trois barres horizontales pour les cubes du haut. Vous pouvez donc déduire, pour les trois autres cubes, qu'on passe d'une à deux puis trois barres verticales.

Face latérale : vous pouvez observer sur la face latérale des cubes la présence d'une figure identique : un carré pour ceux du haut, un triangle pour ceux du bas.

La bonne réponse est donc la réponse 1.